

臺南市 110 學年度精進國民中小學教師教學專業與課程品質推動計畫
國中教育會考社會科試題研究及教學策略研習實施計畫—回流場次

一、依據：

- (一)教育部國民及學前教育署補助辦理十二年國民基本教育精進國民中學及國民小學教學品質要點。
- (二)國民小學及國民中學學生成績評量準則。
- (三)110 學年度臺南市辦理精進國民中小學教師教學專業與課程品質推動計畫。

二、現況分析與需求評估

對於教育現場教師而言，學生國中教育會考成績減 C 進 A 是教師必須面對的現實課題，而社會領域教師授課時數有限，且偏遠地區受限師資結構易出現非專長教師授課情形，故辦理教育會考成績試題分析研習將有助於讓教師們掌握學生學習社會領域之迷失概念，並透過工作坊形式後掌握有效教學策略及教學資源以求提升學生學習成效。

三、目標：

- (一)協助國中教師運用國中教育會考試題分析資料，透過會考資料回饋學生學習成果，瞭解學生學習狀態，俾利因材施教。
- (二)輔導國中教師運用國中教育會考試題分析資料，反思並檢視教學成效，以利課程規劃並實踐課堂之有效教學。

四、辦理單位

- (一)指導單位：教育部國民及學前教育署
- (二)主辦單位：臺南市政府教育局
- (三)承辦單位：臺南市立後甲國中
- (四)協辦單位：臺南市國民教育輔導團。

五、研習日期及地點：

- (一)研習日期：111 年 03 月 11 日(星期五)
- (二)研習地點：本市後甲國中會議室(詳見當天會場標示)

六、研習對象：全市市立國民中學之社會領域召集人或指派領域教師，每校務必指派 1~2 人，每場次參加人數各預計 100 人。

七、報名方式：參加研習人員請逕至本市教育局資訊中心學習護照報名(課程代碼 248885)，全程參加人員核予研習時數 3 小時。

八、課程內容：

回流場次：111 年 03 月 11 日(研習代碼 248885) 實體研習：後甲國中會議室(詳見當天會場標示)		
時間	課程內容	主持人/講師
08:30-08:40	報到	輔導團
08:40-08:50	始業式	教育局代表 後甲國中陳瑞榮校長 忠孝國中侯志偉校長 大橋國中王宏寶校長
08:50-09:40	分項能力 學生迷思概念彙整	歷史：本團輔導員永康國中陳威廷老師 地理：本團輔導員文賢國中郭小翠老師 公民：本團輔導員後甲國中邱鑑今老師
09:40~09:50	課間休息	輔導團
09:50-11:20	各學習類別分組研討 有效教學策略研討	歷史：本團輔導員永康國中陳威廷老師 地理：本團輔導員文賢國中郭小翠老師

回流場次：111 年 03 月 11 日(研習代碼 248885) 實體研習：後甲國中會議室(詳見當天會場標示)		
		公民：本團輔導員後甲國中邱繼今老師
11:20-11:30	綜合座談	教育局代表 後甲國中陳瑞榮校長 忠孝國中侯志偉校長 大橋國中王宏寶校長
11:30~	賦歸	輔導團

九、獎勵：辦理本案有功人員，請依「臺南市立高級中等以下學校教職員獎懲案件作業規定」辦理敘獎。

十、經費：由「教育部國民及學前教育署補助精進國民中小學教師教學暨課程品質整體推動計畫專款」補助

十一、預期成效：

(一)藉由試題分析，了解會考命題重點，融入課程與評量之中，達到減C進A目的。

(二)協助教師針對校內學生學習現況進行分析後了解學生迷思概念，並提出有效教學策略。

(三)強化社會領域非專長教師有效教學教學策略之運用，提昇學生學習力。

十二、本計畫經教育部審查通過並呈報臺南市政府教育局核定後實施。修正時亦同。

十三、本計畫聯絡人：臺南市麻豆國中林佳靜老師(聯絡電話 06-5722128 轉 21)

請考生依指示
填寫准考證末兩碼

110年國中教育會考 社會科試題本

請不要翻到次頁！

讀完本頁的說明，聽從監試委員的指示才開始作答！

※請先確認你的答案卡、准考證與座位號碼是否一致無誤。

請閱讀以下測驗作答說明：

測驗說明：

這是國中教育會考社會科試題本，試題本採雙面印刷，共14頁，有63題選擇題，每題都只有一個正確或最佳的答案。測驗時間從08:30到09:40，共70分鐘。作答開始與結束請聽從監試委員的指示。

注意事項：

1. 所有試題均為四選一的選擇題，答錯不倒扣。
2. 試題中所附圖形，如有附上比例尺，以比例尺為依據作答；若無比例尺，則該圖僅作為參考，不代表實際大小。
3. 可利用試題本中空白部分計算，切勿在答案卡上計算。
4. 依試場規則規定，答案卡上不得書寫姓名座號，也不得作任何標記。故意汙損答案卡、損壞試題本，或在答案卡上顯示自己身分者，該科考試不予計列等級。

作答方式：

請依照題意從四個選項中選出一個正確或最佳的答案，並用2B鉛筆在答案卡上相應的位置畫記，請務必將選項塗黑、塗滿。如果需要修改答案，請使用橡皮擦擦乾淨，重新塗黑答案。例如答案為B，則將Ⓑ選項塗黑、塗滿，即：Ⓐ ● Ⓑ ● Ⓒ ○ Ⓓ ○

以下為錯誤的畫記方式，可能導致電腦無法正確判讀。如：

- Ⓐ ● Ⓑ ○ Ⓒ ○ Ⓓ ○ — 未將選項塗滿
- Ⓐ ○ Ⓑ ○ Ⓒ ○ Ⓓ ○ — 未將選項塗黑
- Ⓐ ● Ⓑ ● Ⓒ ○ Ⓓ ○ — 未擦拭乾淨
- Ⓐ ● Ⓑ ○ Ⓒ ○ Ⓓ ○ — 塗出選項外
- Ⓐ ● Ⓑ ● Ⓒ ● Ⓓ ○ — 同時塗兩個選項

請聽到鐘聲響起，於試題本右上角方格內填寫准考證末兩碼，再翻頁作答

一、單題：(1~55題)

1. 觀光局推出探索圖(一)中十個島嶼的活動。小蘭的外國朋友想來臺灣進行島嶼旅遊，她為友人規畫了下列行程：先浮潛、欣賞當地原住民的地下屋及品嚐飛魚料理；接著欣賞柱狀玄武岩及石滬景觀；最後欣賞國家公園內的戰地風光及風獅爺文化。上述行程依序應為右圖中哪些島嶼？



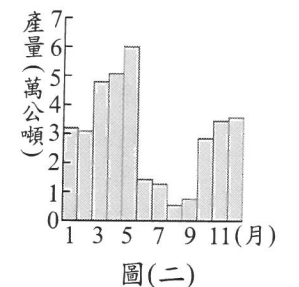
- (A) ①→②→④
(B) ②→⑦→⑨
(C) ③→⑤→⑧
(D) ④→⑥→⑩

2. 表(一)為臺灣四家企業為了提升競爭力而採行的方法，其中何者主要是為了達到增加產品附加價值的目的？

企業	採行的方法
甲	製鞋廠從中國沿海遷廠到內陸
乙	紡織廠研發吸溼排汗的機能布料
丙	煉鋼廠設置在高雄臨海工業區內
丁	電子廠自東南亞引進大量外籍勞工

- (A) 甲
(B) 乙
(C) 丙
(D) 丁

3. 圖(二)為1946年至1995年臺灣月平均晒鹽產量統計圖，其中某些月分的產量明顯較低。根據臺灣晒鹽產區的氣候特性判斷，造成這些月分產量較低的氣候因素最可能為下列何者？

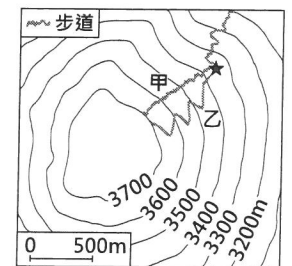


- (A) 蒸發較弱 (B) 降雨量較多
(C) 風力較強勁 (D) 日照時數較短

4. 中國某一跨海大橋於2018年完工，其連結了中國兩個特別行政區及一個經濟特區，可縮短往來三地的距離，及強化三地經濟社會的交流。上述跨海大橋應位於下列哪條河川的出海口？

- (A) 珠江 (B) 長江 (C) 海河 (D) 黃河

5. 圖(三)為某座山山頂附近的等高線地形圖。小明攀登至★處時，有兩條登頂路線可以選擇，甲路線長度1,150公尺、乙路線長度1,300公尺。小明決定選擇乙路線登上山頂，他的考量依據最可能為下列何者？



- (A) 甲路線起迄點高度差較大
(B) 乙路線登山步道相對較緩
(C) 甲路線位在河谷視野較差
(D) 乙路線位在山脊視野較佳

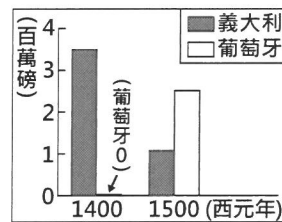
6. 考古學者在臺灣東部發現距今約三萬年前的史前人類生活遺跡，推估當時的人們已經懂得打製粗糙的石器，但還沒有磨製石器的技巧，也不懂如何蓋房子，而是住在天然的洞穴裡。這些史前人類最可能以下列何種方式維持生活？
- (A) 牧養牛羊
(B) 採集漁獵
(C) 種植稻米
(D) 圈養家畜

7. 圖(四)是某一中國現代史攝影專輯的部分內容，圖中所呈現的景象，最可能與下列何者有關？
- (A) 大躍進
(B) 抗美援朝
(C) 改革開放
(D) 文化大革命



圖(四)

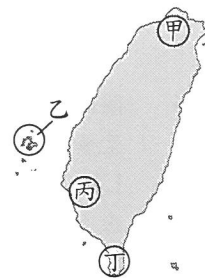
8. 圖(五)呈現不同年份，二地商人運回歐洲的香料重量估計值。圖中的變化，最可能與下列何者有關？
- (A) 文藝復興的出現
(B) 工業革命的興起
(C) 海外新航路的發現
(D) 鄂圖曼土耳其帝國的滅亡



圖(五)

9. 以下是一位外國記者對臺灣的記錄：「在插滿了新國旗的建築物內，擠入了許多情緒高昂的人們。新國旗以藍色為背景，中間有隻黃色老虎，尾巴翹得半天高；官員與群眾燃放鞭炮互相打氣。……直到日本軍艦在沿岸偵察的消息傳來，群眾像被潑了盆冷水般紛紛走避，官員則退入房內商量對策。這時大家才發現，想要爭取建立新的政權，除了升旗、放鞭炮以外，還有其他更重要的事情要做。」上述內容與下列何者最為相關？
- (A) 中華民國退出聯合國
(B) 《馬關條約》的簽署
(C) 臺灣地方自治聯盟的成立
(D) 臺灣省政府發布「戒嚴令」

10. 「十七世紀時，臺灣某地區的許多原住民能夠閱讀西班牙文，而在當時的歷史記載中，荷蘭人在此地區探查金礦時，需要會說西班牙話的人才，並且以銀幣作為餽贈原住民的禮物。」此地區最可能位於圖(六)中何處？
- (A) 甲
(B) 乙
(C) 丙
(D) 丁



圖(六)

11. 在咖啡廳打工的大牛，自從年齡不受《勞動基準法》童工規定的保護後，老闆開始要求他每週五加班到凌晨。某日，大牛與客人發生衝突，因而被移送少年法庭審理。根據上述內容判斷，下列關於大牛的敘述何者最適當？
- (A) 屬於無責任能力人
(B) 屬於完全行為能力人
(C) 可能受到保護管束處分
(D) 可能被處以十五萬元罰鍰

12. 小皇為了繳交某一主題的課堂報告，蒐集了下列三則新聞報導：

根據調查顯示，過半數國中、小學生課後會上安親班或補習班。親子共處時間從事的活動，多數回答看電視或用手機上網。

政府推動老人安養、長期照護等社會福利措施，減輕有照護需求家庭的負擔。

隨著單身及頂客家庭逐漸增加，加上他們常會飼養寵物作伴，使得國內的寵物數量比0~6歲嬰幼兒總數還多。

根據上述內容判斷，這篇報告所要探討的主題與下列何者最相關？

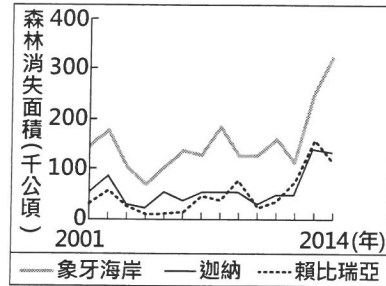
- (A) 家庭功能的變化
(B) 家庭成員的改變
(C) 社會教育的重要性
(D) 社會救助的迫切性
13. 我國中央政府基於五權分立、相互制衡的理念而運作，某些職務雖具有其法定職權，但行使職權時經常需要取得其他機關的同意才能完成，例如緊急命令的發布就包含了許多法定程序。下列何者與上述事例的運作流程無關？
- (A) 總統
(B) 行政院
(C) 立法院
(D) 司法院
14. 近來許多地方政府重新整頓閒置空間，每逢週末舉辦藝文活動，並對外進行攤位招商，有時還搭配煙火秀吸引遊客。由於此舉易造成周邊交通壅塞，加上地方財政困窘，因而輿論對此作法有諸多批評，但不少地方政府仍持續舉辦相關活動。下列何者最可能是上述地方政府作為的目的？
- (A) 籌措地方自治財源
(B) 提供人民社會福利
(C) 維護自然環境資源
(D) 保障民眾言論自由
15. 圖(七)是某機關發布之管理計畫的部分內容，該機關將據此管制指定觀光地區的活動範圍、時間及遊客行為。下列關於此管理計畫的敘述何者最適當？
- (A) 限制了觀光遊客的人身自由
(B) 將影響漁撈工作者的財產權
(C) 管制行為有助於維持經濟秩序
(D) 實施管制是為了增進公共利益

壹、目的：
為維護遊憩品質、保護海洋生態環境及遊客安全，針對每日至北寮奎壁山東部赤嶼陸連島(摩西分海)區域探訪之遊客，實施進入管理措施。

貳、管制對象：
(一) 所有進入本區域之遊客。
(二) 在地居民從事日常漁撈工作者除外。
：

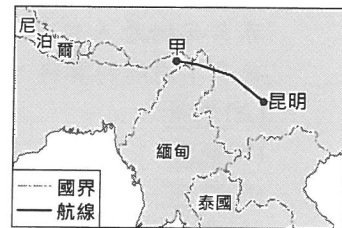
圖(七)

16. 森林的消失受各種不同的自然及人為因素影響，大規模種植作物為重要的因素之一。圖(八)為某國際組織運用衛星影像資料，推算非洲三個國家自2001至2014年森林消失面積的統計資料。圖中森林面積的變化最可能反映何種作物的大量種植？
- (A)小麥 (B)可可
(C)棉花 (D)橄欖



圖(八)

17. 1942年，中國的對外陸上交通被日軍阻斷，所以開闢了一條空中通道，由甲地運送戰略物資至雲南昆明，如圖(九)所示。該航線因受限於當時螺旋槳飛機的性能，僅能順著山峰與谷地飛行，軌跡高低起伏狀似駝峰而被稱為「駝峰航線」。根據上文，該航線應是越過下列何者？
- (A)天山山脈 (B)青藏高原
(C)橫斷山脈 (D)內蒙古高原



圖(九)

18. 下列是不同月份到某地旅遊應注意的事項：「一月溫度較低且降雨機率高，記得準備厚外套、手套、圍巾和雨具；四月時山花漸開，下雨的機率漸減；七、八月氣候偏乾且日照強烈，需注意防曬；十月起天氣漸涼，早晚溫差大，且雨水漸多，可帶件薄外套。」該地最可能是下列何種氣候類型？
- (A)熱帶莽原氣候 (B)溫帶大陸性氣候
(C)夏雨型暖溫帶氣候 (D)溫帶地中海型氣候

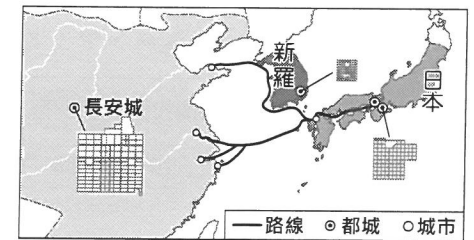
19. 臺灣目前有四個國家風景區在其範圍內設置有北回歸線標誌，包括花東縱谷、東部海岸、澎湖以及雲嘉南濱海國家風景區。表(二)為上述四個北回歸線標誌設置地點的經緯度，何者位在雲嘉南濱海國家風景區範圍內？

表(二)

設置地點	經緯度
甲	23.45°N, 121.50°E
乙	23.45°N, 120.14°E
丙	23.47°N, 121.36°E
丁	23.48°N, 119.51°E

- (A)甲 (B)乙
(C)丙 (D)丁
20. 為促進太陽能產業的發展，印度與法國於2015年宣布推動國際太陽能聯盟，計畫讓121個擁有豐富太陽能資源的國家加入，提供資金協助成員國發展乾淨且負擔得起的太陽能發電。上述121個國家最不可能位於下列何地？
- (A)阿拉伯半島
(B)玻里尼西亞
(C)加勒比海地區
(D)斯堪地那維亞半島

21. 圖(十)呈現某一時期東亞部分國家的都城規畫，以及交流路線示意圖。根據內容判斷，圖中的路線最可能是下列何者？
- (A)鄭成功船隊在東亞的貿易路線
(B)耶穌會教士在東亞的傳教路線
(C)甲午戰爭時日本進攻中國的路線
(D)唐朝時日本使者前往中國的路線



圖(十)

22. 小民蒐集中國近代某一歷史事件的四份相關資料，如表(三)所示。表中的「資料一」最可能是下列何者？

表(三)

資料一	?
資料二	英國人派來攻打中國的上萬名士兵，在北京天壇紮營。他們的馬，蹂躪著一切。
資料三	俄國人洗劫北京頤和園的行動已經完成，所有珍貴物品都已經包裝好並貼上標籤。
資料四	法、德兩國把北京天文台的珍貴儀器據為己有，儀器將被送往巴黎和柏林。

- (A)太平軍正向北方發展，勢力從南京向首都北京地區蔓延
(B)大學生罷課、結隊在全城遊行，並聚集至親日官員住宅抗議
(C)義和團燒毀天主教堂、美國傳教團體的房舍，以及海關外國雇員的住所
(D)武昌已經宣布成立共和政權，革命軍隊準備和來自北方的清朝軍隊作戰
23. 下列為兩本不同時代史書對中國長江中下游某地景觀的描述：
- 史書一：「地廣人稀，以稻米為飯，以魚類為菜，採行火耕等原始的耕種方式。人們沒有積蓄，……既無挨餓受凍之人，也無千金富戶。」
- 史書二：「水澤廣闊，良田廣茂，桑樹遍野，田地與溝渠綿延相望，村舍錯落，田間小路交織，好像美麗的刺繡。」
- 上述轉變與下列何者的關係最為密切？
- (A)張騫通西域
(B)「六朝」的開發
(C)坊市制度的廢除
(D)「萬里長城」的修築
24. 以下是一位西方記者對時事的報導：「過去美歐人士在中國許多城市高高在上，不僅享有領事裁判權保護，更有本國軍隊在中國駐紮。但『戰爭』改變了一切，領事裁判權被取消，美歐人士必須接受中國司法管轄，他們逍遙於中國司法之外的好日子和地位，一去不復返了。」上述「戰爭」最可能是指下列何者？

- (A)鴉片戰爭 (B)國民革命軍北伐
(C)第一次世界大戰 (D)第二次世界大戰

25. 圖(十一)為甲、乙、丙三人在社群網站的留言內容。若三人在這段期間的投資報酬率高低關係為丙>甲>乙，下列何者最可能是丙的留言內容？

甲 我這段期間投資的報酬率還不錯，剛好20%。

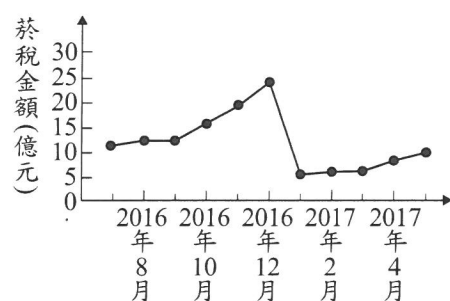
乙 我的投資金額和甲相同，但獲利金額只有他的一半。

丙 ?

圖(十一)

- (A)我的投資金額為10萬元，獲利金額為2萬元
 (B)我的投資金額是甲的兩倍，但獲利金額與甲相同
 (C)我的獲利金額和甲相同，但投資金額只有甲的一半
 (D)我的獲利金額是乙的一半，投資金額也只有乙的一半

26. 甲國為了降低國內吸菸人口，針對每包菸品課徵售價30%的菸稅，而自2017年起更提高至50%。圖(十二)是新制上路前後，國內菸稅金額的變化情況，根據圖中資訊判斷，下列何者最適合用來說明2016年底時所發生的變化？



圖(十二)

- (A)比較利益 (B)預期心理
 (C)供給法則 (D)受益原則

27. 小蔡多次趁消費時詐騙某一店家財物，老闆不甘受騙報警處理。雖然小蔡遭逮後深表懊悔，並賠償店家損失達成和解，老闆也決定不提出告訴，但警方仍依法將他移送法辦，最後小蔡遭法院判處罰金。上述小蔡與老闆達成和解，以及被法院判罰的部分，依序屬於下列何種類型？

- (A)行政案件、告訴乃論的刑事案件
 (B)民事事件、告訴乃論的刑事案件
 (C)行政案件、非告訴乃論的刑事案件
 (D)民事事件、非告訴乃論的刑事案件

28. 金芳工廠評估三種營運策略的收支情況，如表(四)所示。若僅考量利潤，該工廠的最佳選擇是「維持現狀」，且此選擇的機會成本是「增產乙產品」。根據上述內容判斷，表中「☆」處的數值，最可能為下列何者？

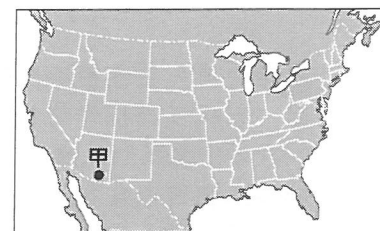
表(四)

營運策略	銷貨收入	生產成本
增產甲產品	120	90
增產乙產品	105	☆
維持現狀	80	40

單位：萬元/月

- (A) 80
 (B) 70
 (C) 60
 (D) 50

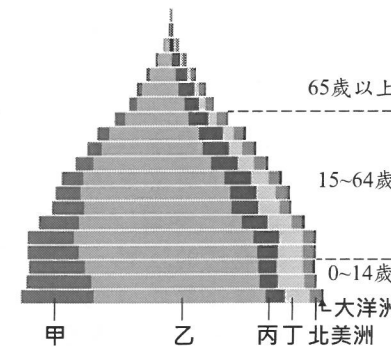
29. 圖(十三)中的甲地為美國退役飛機存放的地點之一，以便這些飛機做後續的處置與再利用。根據當地的地理環境特色判斷，選擇該地點存放與下列何者關係最密切？



圖(十三)

- (A)位於加州矽谷，維修人力充足
 (B)地處北美大平原上，地廣人稀
 (C)氣候乾燥少雨，避免零件鏽蝕
 (D)鄰近墨西哥灣，利於拆解轉售

30. 圖(十四)是以每5歲為一級距，統計2013年世界各年齡層人口數的示意圖，其中不同顏色代表不同洲的資料。圖中丙應為哪一洲？



圖(十四)

- (A)非洲
 (B)亞洲
 (C)歐洲
 (D)中南美洲

31. 「飛行釀酒師」是一個特別的行業，他們搭乘飛機穿梭在全球各地的葡萄園提供技術指導，尤其是在秋季葡萄採收時最為忙碌。某一釀酒師在澳洲葡萄採收的季節前往該國協助，則他在澳洲停留的月分最可能為下列何者？

- (A) 1、2月 (B) 3、4月 (C) 6、7月 (D) 9、10月

32. 歐洲兩大河流藉由某一運河相互連結，以提升河流的航運價值。甲港口為該運河上重要的轉運樞紐，表(五)為2016年兩條河流域內各國與甲港口之間的船舶貨運量。由表中資訊判斷，可推論出其中一條河流的貨運量較大，該河流應是注入哪個海域？

表(五)

國家	船舶貨運量(公噸)
荷蘭	100,488
德國	68,520
比利時	50,813
奧地利	34,498
匈牙利	8,891
法國	5,552
斯洛伐克	4,094
羅馬尼亞	854
總計	273,710

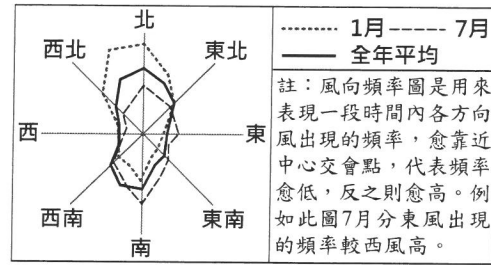
註：船舶貨運量為各國以船舶運抵甲港口及從甲港口運至各國的貨運量總和。

- (A)北海 (B)黑海
 (C)地中海 (D)波羅的海

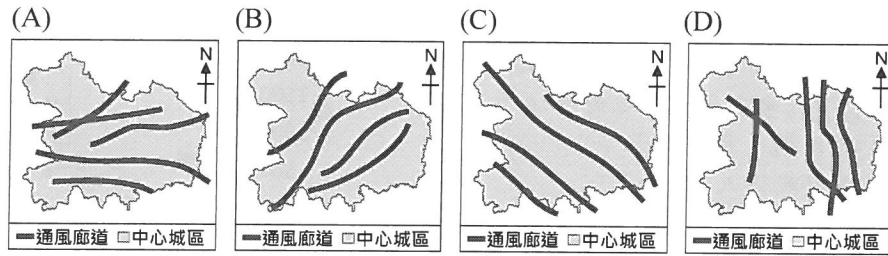
33. 「早期，臺灣中部山區的原住民開墾坡地時，會先砍伐樹木，待其充分乾燥後點火焚燒，坡地因此留下不少灰燼，可作為肥料。首年的收穫相當可觀，但通常僅能耕作3至5年，便須遷移到其他坡地，再以相同方式開墾。」上述農墾方式最可能也出現在下列哪一地區？

- (A)印尼蘇門答臘島
 (B)埃及尼羅河三角洲
 (C)加拿大拉布拉多高原
 (D)俄羅斯西伯利亞山地

34. 「通風廊道」主要由公園與綠地組成，其規畫是為了引導都市外涼爽、乾淨的空氣流入都市，以緩解都市中心悶熱、汙濁的空氣環境，廊道走向主要與當地盛行風向一致。圖(十五)為中國季風氣候區內某都市的風向頻率圖，根據該都市最主要的風向判斷，其通風廊道的規畫最可能接近下列何者？



圖(十五)

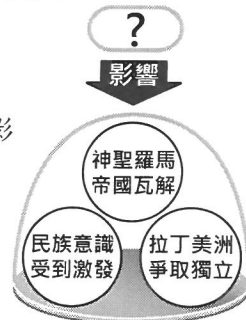


35. 歷史上某種組織的設立目的，是為了保護城市同業會員的利益，其作法包括：(1)禁止非會員營業；(2)會員間有互助救濟的責任；(3)規定價格、品質、工資、工作條件，以限制競爭。此種組織最可能是下列何者？

- (A) 中共人民公社 (B) 蒙古帝國的驛站
(C) 唐代的市舶司 (D) 中世紀西歐行會

36. 歷史老師上課時，使用圖(十六)講解某一史事所造成的影響，圖中的「？」最可能是下列哪一史事？

- (A) 美國獨立戰爭 (B) 英國光榮革命
(C) 拿破崙向外擴張 (D) 俾斯麥推動國家統一



圖(十六)

致法軍司令：
持本通行證者為宣教士馬偕博士，他希望能進入貴國占領地，拜訪他所屬的教會。……因此身為英國領事，在此懇請閣下准許馬偕進入，並在當地自由安全的通行。
英國領事謹致

圖(十七)

38. 小芳撰寫「臺灣糖業發展」的課堂報告，想討論在十九世紀中後期臺灣糖業所發生的變化，下列何者最能夠呈現當時的變化？

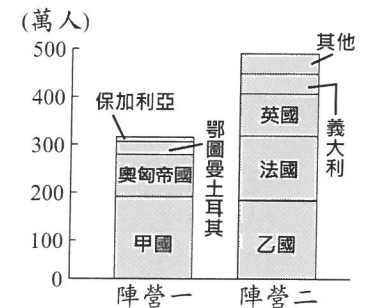
- (A) 新式糖廠用縱貫鐵路運送蔗糖 (B) 興建嘉南大圳使甘蔗產量增加
(C) 蔗糖可由洋行收購，銷往國外 (D) 臺灣開始種植甘蔗，發展糖業

39. 「吳生是徽州人，參加科舉考試屢屢失利，但他沒有放棄金榜題名的希望。為了糊口謀生，在這個徽州商人活躍於全國，形成商幫組織的時代，他未從商而選擇行醫。有一年，吳生遠赴省城參加鄉試，卻遇上了身體不適的老友上門求診，結果老友得以痊癒，自己卻又再度名落孫山。終其一生，他雖未能如願中舉，但卻成為一位良醫。」上文中的吳生，最可能是下列何時的讀書人？

- (A) 西漢時期 (B) 隋唐時期
(C) 北宋時期 (D) 明清時期

40. 圖(十八)是某戰爭中，交戰雙方(陣營一、陣營二)各成員國的軍隊陣亡人數圖。圖中的甲與乙最可能分別是哪兩國？

- (A) 甲：美國，乙：德國
(B) 甲：德國，乙：俄國
(C) 甲：日本，乙：中國
(D) 甲：俄國，乙：美國



圖(十八)

41. 有一本1926年出版的書籍，對於臺北名勝介紹如下：「圓山公園位在距離臺北車站1.8哩之處，隔基隆河與臺灣神社相望，樹木繁盛，滿山翠綠。園內有市立動物園，動物園飼養了來自世界各地的珍禽異獸，遊覽者眾，此動物園被公認是國內的五大動物園之一。」上述內容中「國內的五大動物園」最可能還包括下列何地的動物園？

- (A) 上海 (B) 馬尼拉
(C) 京城(首爾) (D) 巴達維亞(雅加達)

42. 圖(十九)是一則網路新聞報導，根據圖中內容判斷，在此案的處理過程中，最可能會出現下列何種情況？

- (A) 大法官對案件進行公平審理
(B) 檢察官主導案件的偵查工作
(C) 消保官追訴負責人的犯罪行為
(D) 書記官協助業者進行調解事宜

消費者請注意
豪睏公司未經主管機關許可，自國外引進聲稱具有療效的床墊販售牟利，違反《藥事法》規定，相關單位進行調查後，決定對該公司業務負責人提起公訴。

圖(十九)

43. 阿治在網路上分享自己潛水過程中觸碰綠蠵龜的影片，引發了爭議。由於他隨意觸碰保育類動物的行為，涉嫌違反《野生動物保育法》，一旦確定行為違法，最重將可能面臨有期徒刑的處罰。根據上述內容判斷，若阿治遭罰但不服，他採行下列哪一方式進行權利救濟最適當？

- (A) 向相關單位提出請願
(B) 向高等法院提起上訴
(C) 向訴願管轄機關提出訴願
(D) 向高等行政法院提起上訴

44. 某機關希望縮短使用者的停車時間，提高停車場車位的流動率，使車位能讓更多洽公民眾使用，因此設計新的停車費率，如表(六)所示。該機關設定表中停車費率所運用的經濟學概念，與下列何者最相似？
- (A)慶祝擴大營業，全店半價促銷
(B)物價持續上漲，貨幣價值降低
(C)提高銷貨收入，增加公司利潤
(D)香蕉價格下跌，種植農民變少

表(六)

停車時間	收費金額
20分鐘內離場	0元
第一個小時	40元
第二個小時起	每小時100元

45. 表(七)內容為燕玲在日常生活中所碰到的四種情況。根據表中內容判斷，哪二種情況隱含「外部成本」的概念？
- (A)甲、乙
(B)丙、丁
(C)甲、丙
(D)乙、丁

表(七)

代號	情況
甲	鄰居庭院的花枯死了，燕玲對於聞不到花香感到可惜。
乙	對面住家常常在半夜大聲播放音樂，害燕玲都睡不著。
丙	隔壁住戶的狼犬警戒心很強，讓燕玲也住得安心許多。
丁	樓下熱炒店被檢舉後油煙味減少，讓燕玲覺得很高興。

46. 有鑑於以往選舉活動過於密集，除了選務工作須花費大量成本外，也容易造成社會紛擾，於是我國目前採用每隔兩年交錯的原則，分別辦理中央層級與地方層級公職人員的選舉。根據表(八)內容判斷，以民國107年九合一地方公職人員選舉為例，「✓」代表可領取該項選舉選票，若小華具有此次選舉的投票權，下列何者是他依法可能領取的選票組合之一？

表(八)

選票組合	直轄市市長	直轄市市議員	縣長	縣議員	縣轄市市長	市民代表	山地原住民區區長	山地原住民區區民代表	里(村)長
甲	✓	✓	✓	✓	✓	✓	✓	✓	✓
乙			✓	✓	✓	✓	✓	✓	✓
丙	✓	✓							✓
丁					✓			✓	✓

- (A)甲 (B)乙 (C)丙 (D)丁

47. 小毛：「老師，為什麼每年學校都要送應屆考生包子、蛋糕和粽子的餐盒？」
老師：「因為包子、蛋糕和粽子的諧音為『包高中』，寓有對考生祝福吉利的意思。」

上述學校作為所隱含的社會規範，其性質與下列何者最類似？

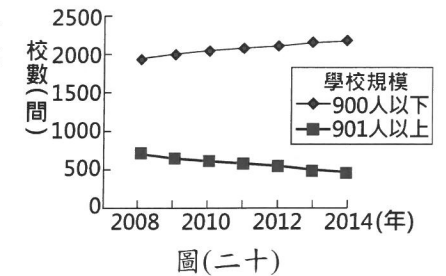
- (A)除夕當晚家家戶戶團圓圍爐 (B)遛狗時隨手清理愛犬的糞便
(C)許多阿拉伯人每日都做禮拜 (D)騎車時使用手機會被開罰單

48. 表(九)是我國某一項公職人員選舉的開票結果。根據表中內容判斷，此項選舉所選出的公職人員應具有下列何項職權？
- (A)依法公布法律、命令
(B)編列中央政府的預算
(C)質詢地方政府的行政官員
(D)提出總統、副總統彈劾案

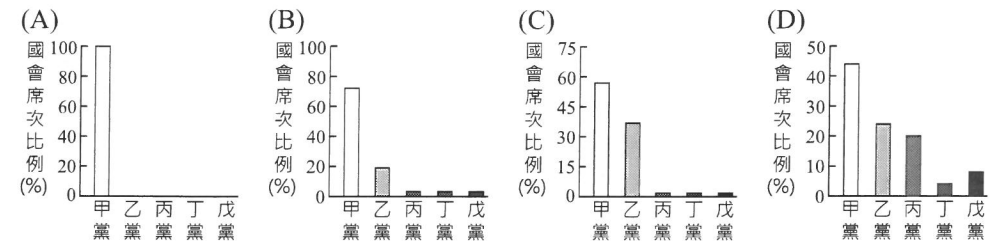
表(九)

○○市第二選區第59號投開票所開票結果				
候選人得票數				
候選人	①王大銘	②趙小虹	③康自強	
得票數	203票	1046票	344票	
政黨得票數				
政黨	甲黨	乙黨	丙黨	丁黨
得票數	1039票	89票	326票	159票

49. 圖(二十)顯示2008至2014年臺灣不同規模的國小校數變化，此種變化趨勢與下列哪一臺灣社會現象的關係最密切？
- (A)國內的生育率下降
(B)外籍配偶人數增加
(C)國民義務教育延長
(D)隔代教養家庭增加

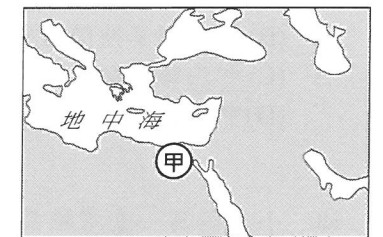


50. 某內閣制國家在國會大選結束後，該國最大黨因與其他政黨在移民、環保政策等問題上難以達成共識，導致遲遲無法組成聯合政府。根據上述內容判斷，下列何者最可能為該國的選舉結果？



51. 2018年的「世界音樂節@臺灣」邀請了世界各地的音樂團體來臺演出，其中來自厄瓜多的樂團帶來安地斯山風情的音樂，讓我們可以藉此欣賞該國的文化特色。上述文化特色最可能為下列何者？
- (A)中東新樂曲 (B)印加傳統音樂 (C)寶萊塢歌舞劇 (D)愛爾蘭踢踏舞樂

52. 圖(二十一)甲處自西元前四世紀至西元七世紀，官方使用的文字因外來統治者改變而有所不同，這些官方文字使用時間的先後順序最可能是下列何者？

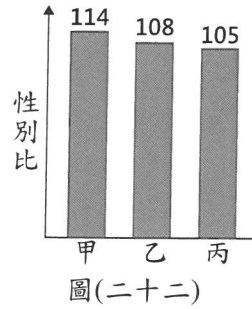


- (A)希臘文→拉丁文→阿拉伯文
(B)希臘文→阿拉伯文→拉丁文
(C)阿拉伯文→拉丁文→希臘文
(D)阿拉伯文→希臘文→拉丁文

圖(二十一)

53. 以下是一位學者對於歷史上某次政治改革所做的評論：「憲法由資政院起草議決，皇帝頒布；修正權屬於國會；皇帝權力以憲法規定者為限。上述這些規定雖限制了部分皇權，卻仍然強調皇帝神聖不可侵犯，對於人民的民主權利隻字未提。」根據內容判斷，推行上述政治改革的最可能是下列何者？
- (A)1860年的太平天國 (B)1911年的清朝政府
(C)1947年的國民政府 (D)1949年的中華人民共和國

54. 某年世界新生兒性別比為106，圖(二十二)是同年甲、乙、丙三個國家新生兒性別比的數據。根據圖中資料判斷，下列何者最可能是甲國社會現況的敘述？
- (A)戰亂頻仍，社會環境不夠穩定
(B)重男輕女，性別刻板印象普遍
(C)思想觀念開放，尊重多元性別發展
(D)屬於母系社會，後代子女多從母姓



55. 表(十)是臺灣農工業產品，在外銷貿易額中所占的比例。根據該表數據判斷，造成此變化的原因最可能與下列哪一經濟措施有關？
- (A)推動耕者有其田
(B)加入世界貿易組織
(C)實施出口導向政策
(D)成立新竹科學工業園區

表(十)

時間 產品	1962年	1973年
農業產品	49%	17%
工業產品	51%	83%

出口導向：又稱出口擴張；
新竹科學工業園區：現已改名為新竹科學園區。

二、題組：(56~63題)

閱讀下列選文，回答第56至57題：

約翰·馬歇爾，畢業於英國劍橋大學，曾經參與希臘克里特島考古遺址的挖掘工作。1902年，他獲得大英博物館的推薦，被派遣到英國在亞洲的殖民地，擔任該地的考古局局長。他熱衷考古，在派駐該地時，接續前人工作，繼續進行多個古代遺址的挖掘，並對桑奇遺址展開復原及研究工作。桑奇遺址主要由三座塔構成：大塔由阿育王所建的磚塔擴建而來，相傳曾藏有釋迦牟尼的遺骨，而二塔、三塔則出土了阿育王時代向外傳法的僧侶們及釋迦牟尼弟子的骨骸，這些考古發現為阿育王致力於該宗教的信仰與傳播提供了實證。同時，馬歇爾也推動制定《古代遺跡保護法案》，界定考古的工作目標及範圍，確立了當地考古研究的基礎。

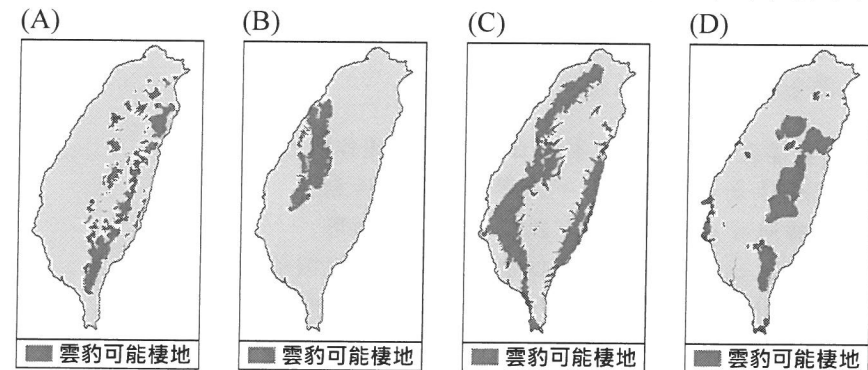
56. 上文提及馬歇爾被派遣到的「殖民地」，最可能是下列何地？
- (A)印度 (B)越南 (C)土耳其 (D)澳大利亞
57. 文中雙底線處的遺址已被列入世界文化遺產，它被指定為世界遺產最可能與下列何者有關？
- (A)彰顯伊斯蘭文化的擴張與融合 (B)展現早期佛教建築藝術的特色
(C)見證了殖民體系下的軍事防禦 (D)保存了工業革命時的工廠形式

閱讀下列選文，回答第58至60題：

臺灣雲豹原始的棲息環境主要在海拔1,500公尺以下的暖溫帶原始森林，在土地被大量開發之後，近幾十年來，牠們似乎已經不見蹤跡，僅能從年長或有狩獵經驗的原住民口中，蒐集到有關曾經捕獲或目擊到雲豹的資訊，而大多數受訪者所指稱的地點多位於中央山脈南段的山區。有一群研究人員為了尋找牠們，歷經三年多的調查雖一無所獲，但還是以目前對雲豹的了解，嘗試繪製臺灣島上雲豹族群可能棲地的分布圖，其繪製的原則與流程如下：

- 【步驟一】首先把全臺灣海拔在300到2,000公尺之間、面積超過40平方公里的森林篩選出來，定義為雲豹的主要棲地。
【步驟二】假設雲豹可以在距離1公里以內的破碎棲地間順利移動，因此把距離主要棲地1公里以內面積不足40平方公里，但大於4平方公里的森林，一併納入最近的主要棲地範疇。
【步驟三】距離村莊、部落5公里以內，或距離主要道路3公里以內的主要棲地不適合雲豹棲息，因而刪除這些區域。

58. 根據上文判斷，臺灣雲豹原始的棲息環境主要為下列何種天然植被？
- (A)紅樹林
(B)針葉林
(C)闊葉林
(D)高山草原
59. 文中多數受訪者目擊雲豹的地點為下列哪兩個原住民族的主要分布地區？
- (A)布農族、鄒族
(B)魯凱族、排灣族
(C)泰雅族、賽夏族
(D)太魯閣族、阿美族
60. 根據文中研究員繪製雲豹可能棲地的原則與流程，其分布圖最接近下列何者？






閱讀下列選文，回答第61至63題：

食物是人類維持生存的必需品，但世界上卻不是人人都能夠吃飽喝足，因此，聯合國在1945年10月16日成立糧食與農業組織，希望能有效管理全球糧食系統，讓更多人擺脫飢餓；後來更進一步將這一天訂為世界糧食日，希望藉由訂定這個主題日呼籲大眾關注糧食議題。

聯合國關於糧食安全的報告顯示，目前全球約有8億人面臨飢餓，相當於世界上每9人中就有1人正遭受飢餓，但全球卻有約三分之一的糧食被浪費掉。由此看來，全球糧食並非不夠，而是分配不均，因此，如何處理糧食分配不均和食物浪費的問題，儼然已成為全球新的糧食議題。

在臺灣，食物浪費的情形也很嚴重，根據環保署統計全國廚餘量推估，國內每人每年平均浪費約100公斤的食物；食藥署也曾調查指出，一年約有3萬6千公噸的食物商品被當作垃圾處理。雖然臺灣目前沒有缺糧的危機，但糧食自給率偏低，加上農地逐漸減少、食品安全及食物浪費的問題，仍可能影響臺灣的糧食安全。

有鑑於此，減少糧食浪費似乎比增加糧食生產更加迫切，許多國家皆努力降低食物浪費的比率，臺灣自然也無法置身事外。因此，從食農教育開始培養國人愛惜食物的觀念，並推動安全的食物生產、提高糧食自給率，才能避免糧荒噩夢到來。

 糧食自給率：國內消費的糧食中，由國內生產供應的比率。

61. 文中國際組織的分布區域及成員性質，與下列何者最類似？
- (A) 歐洲聯盟
 - (B) 世界展望會
 - (C) 世界貿易組織
 - (D) 國際綠色和平組織
62. 根據上述內容判斷，下列何者最符合文中提及的觀點？
- (A) 推動國際貿易可減少食物浪費數量
 - (B) 國內第一級產業就業人口逐年增加
 - (C) 推動理念層次變遷有助改善糧食問題
 - (D) 目前全球糧食總量呈現供不應求情況
63. 若小名要響應文中提及的主題日，下列何種作法最適當？
- (A) 擔任社區老人共餐志工，從事公益服務活動
 - (B) 珍惜有限資源，落實廢棄物資源回收再利用
 - (C) 購買珍珠奶茶時，自備可以重複使用的環保吸管
 - (D) 參加食材零廢棄料理比賽，創造剩餘食材的價值

都市原住民 怎麼來？走向哪？

遷徙，代表人群離開原有空間到另一場域展開新生活。現代國家體制改變了社會、空間、土地的運作方式，原住民族也因被迫納入現代國家體系之中，轉變了族群社會的運作規則。

由於原住民族集體生活的特性，族群內部的社會網絡具有高度連結性與信任感，在內部資訊的傳遞下，當群體內有人向外遷徙到都市時，便會形成「一個拉一個」的遷徙型態。例如：在阿美族的部落中，出現「拉臺北」的名稱，即代表著有大量的青年往臺北移動。

除了連鎖遷徙，原住民族的居住型態也呈現群聚樣貌。遷徙到都市的原住民在都市郊區的空曠地，搭建起一幢幢住宅，逐漸在都市中「長出」一個原住民族聚落。族人也將原鄉種植的田園作物帶至都市，在住宅旁栽種，一如在原鄉組成新部落的過程。由此可見，原住民族往都市移動，是尋覓新的生活空間，同時也帶來原鄉的生活文化，使得「都市原住民」的概念漸漸成形。

不僅是居住型態帶有強連結，來到都市的原住民大多也從事類似的勞動工作，同事們往往都是相識的族人，在工作中能夠相互照顧。有些地區也因工作型態高度重疊，在鄰近工作場所的地域形成落地生根的都市原住民族聚落或部落，讓都市環境不再陌生。例如：由遠洋漁業工人在基隆八尺門組成的聚落；在瑞芳、土城一帶由原住民礦工群聚而成的原住民族聚落；鄰近大量建築工地的汐止山光社區、三峽三鶯部落、新店溪州部落等；甚至是近年來因工商業快速發展而形成的林口、桃園八德等地的新聚落群。

離開熟悉的空間，來到與原鄉環境有著巨大落差的新場域，原住民族期待在都市賺到一筆錢，養活自己也能夠寄錢回家，改變原鄉家庭的生活環境；複雜的情緒交織而流動著，初來乍到的原住民族，對都市描繪出不同的想像，也活出截然不同的生活圖像。

參考來源 Hafay Nikar (2019.09.23)。都市原住民 怎麼來又走向哪？原視界。取自

<https://insight.ipcf.org.tw/article/142>

- () 1. 文中提到「基隆八尺門的聚落，瑞芳、土城一帶的原住民族聚落，汐止山光社區、三峽三鶯部落、新店溪州部落，以及林口、桃園八德等地的新聚落群」，上述聚落皆位在下列哪一個區域？
(A)北部 (B)中部 (C)南部 (D)東部
- () 2. 文中提到阿美族的部落出現「拉臺北」的名稱，代表有大量的青年往臺北移動。臺北市具有下列何項特徵吸引人口移入？
(A)臺灣文化古都 (B)國際航空中心
(C)臺灣政經中心 (D)精密機械聚集地
3. 想一想，原住民族的家鄉與都市地區在經濟發展與公共設施上可能具有哪些差異，因而促使部分原住民往都市移動？(任舉兩項即可)

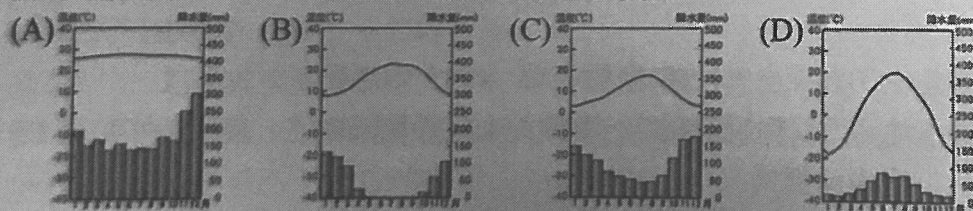
臺灣地名與歷史產業關係

臺灣產業發展演變除了利用歷史文獻資料追溯，還可以透過地名進行探討，以下就樟腦、茶、糖的產業地名與聚落發展關係，搭配內政部地名資訊服務網加以討論。

- 樟腦：**一八六〇年代後樟腦成為臺灣重要出口貿易產品，奠定臺灣經濟基礎，更因此獲得「樟腦王國」之稱。而以產製樟樹製品的聚落多會命名為「樟寮」或「腦寮」，可見地名含有「樟」或「腦」者多半和製造樟腦有關。樟樹多分布在臺灣北部、中部，且樟樹龐大不易運送，若要採樟製作樟腦或樟油等產品，須在附近就地製作，透過地名資訊服務網查詢，與當時製造樟腦有關的地名如樟寮坪、腦寮仔等，多分布在北部新北市、中部苗栗縣、臺中市等地，即便後來臺灣南部也發展出製樟產業，卻仍不如中、北部繁榮。此外，可發現製樟聚落都有河流流經，如淡水河、烏溪(大肚溪)、濁水溪等。
- 茶：**原本臺灣茶的產區多分布在北部，如坪林、深坑一帶，後來臺灣開港經商，逐步擴展到中部的丘陵、台地一帶。而茶的種植、加工到出口生產都有聚集的情形，帶動許多聚落的興起，有的港口因進行茶業貿易擴大市場，帶來繁榮景象，如大稻埕，讓當時臺灣的經濟重心由南往北部移。透過地名資訊服務網查詢，與茶相關地名有如茶仔興坑、茶園坪等，至今臺灣茶葉生產受限地形、氣候，多分布在丘陵、台地，全臺相關地名與茶園分布都有重疊。
- 糖：**糖的相關地名分布與甘蔗生產環境有明顯關係，甘蔗屬於熱帶作物，栽種時必須符合土壤肥沃、陽光充足、冬夏溫差大與地形平坦等條件，因此臺灣南部較為合適。甘蔗作為製糖原料，清帝國時期製糖聚落被稱為糖廍，製糖產業到日治時期到達高峰，當時蔗糖主要運輸到日本，至二次大戰後逐漸沒落關廠。透過地名資訊服務網查詢，可發現「糖」、「蔗」、「廍」相關地名分布，如糖廍、蔗廍、蔗仔坑、上廍子，大量聚集在南臺灣，蔗田、工廠與聚落在此興盛繁榮發展，至今臺灣僅剩虎尾糖廠和善化糖廠仍有在製糖。

參考來源 歷史產業與地名的關係。地名資訊服務網。取自 <https://reurl.cc/73on5y>

- () 1. 小馨想要研究茶葉的種植、採收、加工、撿茶等過程，以及適合的地形、氣候、土壤等條件。請問：她應該前往下列何地進行地理實察最為適合？
(A)蘭陽平原 (B)新竹丘陵 (C)臺中盆地 (D)嘉南平原
- () 2. 文中提到臺灣有許多以「廍」為地名，如糖廍、上廍仔等，而「廍」所加工製造的農產品使用的農作物，在下列哪一個氣候區內栽培最盛？



3. 想一想，製樟的聚落都有河流流經，這可能與何種原因相關？

研習名稱：國中教育會考試題分析回流場次

簽到退表

研習地點：後甲國中

研習日期：111年3月11日

	區域	行政區	服務單位	姓名	簽到	簽退
1	北門區	北門區	北門國中	陳其凱	陳其凱	陳其凱
2	北門區	西港區	西港國中	徐琬貽	徐琬貽	徐琬貽
3	北門區	佳里區	佳里國中	陳俊斯	陳俊斯	陳俊斯
4	北門區	佳里區	佳興國中	徐鳳岡	徐鳳岡	徐鳳岡
5	北門區	將軍區	將軍國中	王姝媚	王姝媚	王姝媚
6	北門區	學甲區	學甲國中	李怡慧	李怡慧	李怡慧
7	永華區	中西區	中山國中	陳敏銓	陳敏銓	陳敏銓
8	永華區	中西區	中山國中	簡妙諭	簡妙諭	簡妙諭
9	永華區	中西區	建興國中	曾鈺真	曾鈺真	曾鈺真
10	永華區	北區	文賢國中	郭小翠	郭小翠	郭小翠
11	永華區	北區	民德國中	許玫芳	許玫芳	許玫芳
12	永華區	北區	成功國中	葉曼華	葉曼華	葉曼華
13	永華區	安平區	安平國中	吳秋玲	吳秋玲	吳秋玲
14	永華區	安平區	金城國中	黃詩芬	黃詩芬	黃詩芬
15	永華區	安南區	九份子國中(小)	史蕙萍	史蕙萍	史蕙萍
16	永華區	安南區	安南國中	李政憲	李政憲	李政憲
17	永華區	安南區	安南國中	蘇儀芬	蘇儀芬	蘇儀芬
18	永華區	安南區	和順國中	劉慧貞	劉慧貞	劉慧貞
19	永華區	安南區	海佃國中	黃淑娟	黃淑娟	黃淑娟
20	永華區	東區	忠孝國中	侯志偉	侯志偉	侯志偉
21	永華區	東區	忠孝國中	廖亭雅	廖亭雅	廖亭雅
22	永華區	東區	忠孝國中	鐘崑榕	鐘崑榕	鐘崑榕
23	永華區	東區	後甲國中	邱鑑今	邱鑑今	邱鑑今

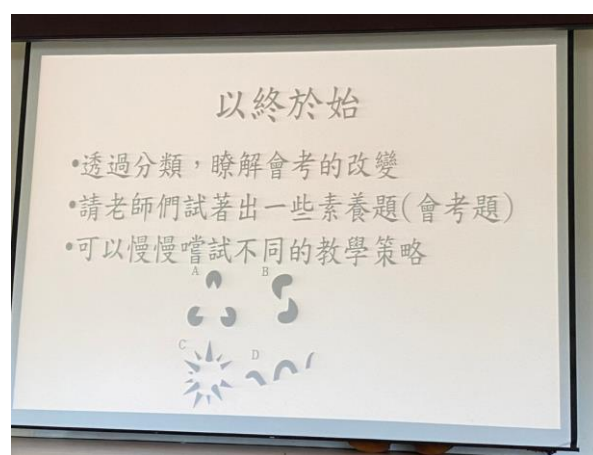
研習名稱：國中教育會考試題分析回流場次

簽到退表

研習地點：後甲國中

研習日期：111年3月11日

	區域	行政區	服務單位	姓名	簽到	簽退
24	永華區	東區	後甲國中	陳瑞榮	陳瑞榮	陳瑞榮
25	永華區	東區	崇明國中	唐雯雅	唐雯雅	唐雯雅
26	曾文區	下營區	下營國中	簡雅琦	簡雅琦	簡雅琦
27	曾文區	大內區	大內國中	李秀屏	李秀屏	李秀屏
28	曾文區	六甲區	六甲國中	陳素玉	陳素玉	陳素玉
29	曾文區	六甲區	六甲國中	胡素瑜	胡素瑜	胡素瑜
30	曾文區	官田區	官田國中	陳丹菁	陳丹菁	陳丹菁
31	曾文區	麻豆區	麻豆國中	林佳靜	林佳靜	林佳靜
32	新化區	左鎮區	左鎮國中	盧家揚		
33	新化區	安定區	安定國中	薛毅白	薛毅白	薛毅白
34	新化區	善化區	善化國中	林韋秀	林韋秀	林韋秀
35	新化區	新化區	新化國中	郭明和	郭明和	郭明和
36	新化區	楠西區	楠西國中	許綺雯	許綺雯	許綺雯
37	新化區	楠西區	楠西國中	蔡泓岑		
38	新營區	東山區	東山國中	陳靜怡	陳靜怡	陳靜怡
39	新營區	後壁區	後壁國中	陳正田	陳正田	陳正田
40	新營區	柳營區	柳營國中	朱莉菁	朱莉菁	朱莉菁
41	新營區	新營區	太子國中	朱珊玟	朱珊玟	朱珊玟
42	新營區	鹽水區	鹽水國中	周祉緹		
43	新豐區	仁德區	仁德文賢國中	張杏宜	張杏宜	張杏宜
44	新豐區	仁德區	仁德國中	張書鳳		
45	新豐區	永康區	大橋國中	王宏寶	王宏寶	王宏寶
46	新豐區	永康區	大橋國中	蔡惠雯	蔡惠雯	蔡惠雯



1 簽到退表/範例-麻豆國中張小華

行政工作主題、課程教學領導主題、教學專業.....

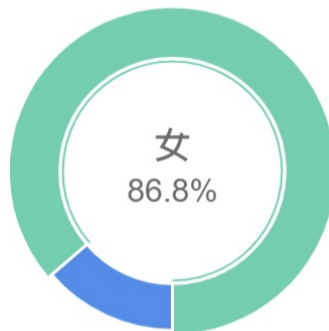
開放性填答，為節約印料與考量您的荷包，請使用匯出功能。SurveyCake Team與您一起愛護地球。

- 金城國中黃詩芬 (1)
- 西港國中徐琨怡 (1)
- 王妹媚 (1)
- 海佃國中黃淑娟 (1)
- 永仁高中楊怡婷 (1)
- 民德國中許玟芳 (1)
- 柳營國中朱莉菁 (1)
- 東山國中陳靜怡 (1)
- 會考試題回流分析 (1)
- 會考試題分析 (1)
- 新東國中王美英 (1)
- 成功國中張曼華 (1)
- 忠孝國中廖寧雅 (1)
- 後甲國中吳昱嫻 (1)
- 後壁國中陳正田 (1)
- 崇明國中蕭晏雅 (1)
- 官田國中陳丹菁 (1)
- 安平國中吳秋玲 (1)
- 安定國中薛毅白 (1)
- 安南國中李政豪 (1)
- 安南國中蘇儀芬 (1)
- 學甲國中李怡慧 (1)
- 太子國中朱珊玟 (1)
- 大灣高中胡秀華 (1)
- 大灣高中殷駿琳 (1)
- 大橋國中蔡惠雯 (1)
- 土城高中林千鑫 (1)
- 善化國中林書秀 (1)
- 和順國中劉慧貞 (1)
- 南新國中張嘉玲 (1)
- 北門國中陳其凱 (1)
- 六甲國中陳素玉 (1)
- 六甲國中胡素瑜 (1)
- 佳里國中陳俊斯 (1)
- 佳興國中徐鳳岡 (1)
- 仁德文賢國中張杏宜 (1)
- 中山國中簡妙諭 (1)
- 下營國中簡雅琦 (1)

多行文字題僅顯示至多 100組 資料統計，完整資料請至“明細匯出”觀看。

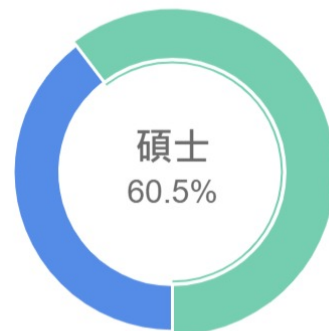
2 性別：

答案選項	填答數	百分比
女	33	86.8%
男	5	13.1%



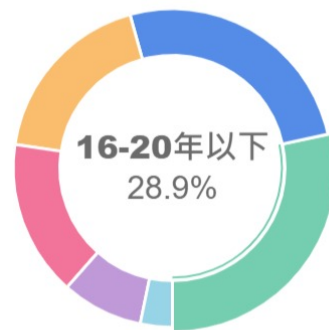
3 學歷：

答案選項	填答數	百分比
碩士	23	60.5%
學士	15	39.4%
博士	0	0%
專科	0	0%



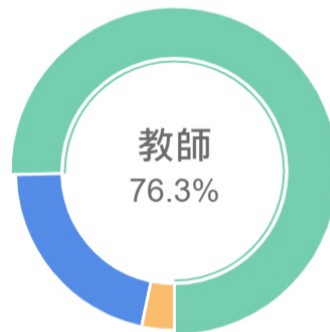
4 工作年資：

答案選項	填答數	百分比
16-20年以下	11	28.9%
11-15年以下	10	26.3%
21-25年以下	7	18.4%
26年以上	6	15.7%
6-10年以下	3	7.8%
1年以下	1	2.6%
1-5年以下	0	0%



5 職務別：

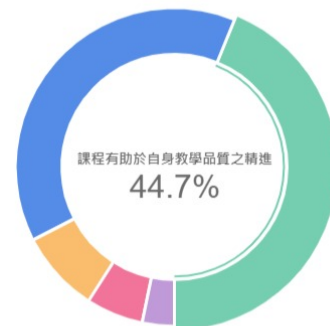
答案選項	填答數	百分比
■ 教師	29	76.3%
■ 校長	8	21%
■ 輔導主任	1	2.6%
■ 校長	0	0%
■ 教務(導)主任	0	0%
■ 學務主任	0	0%
■ 總務主任	0	0%



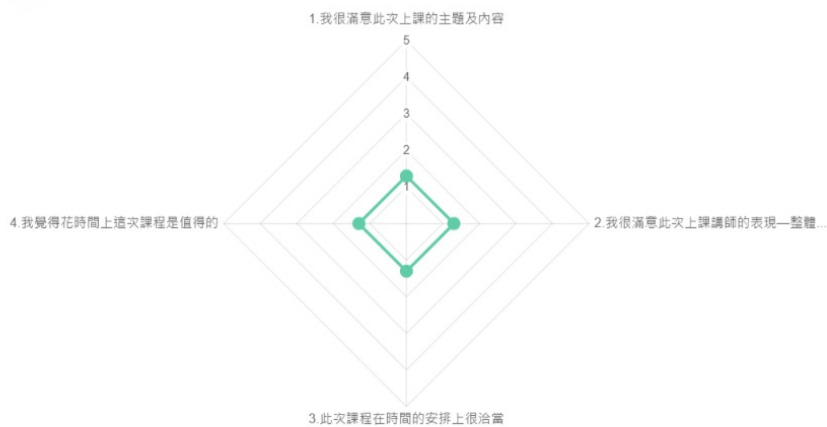
6 參加原因：

答案選項	填答數	百分比
■ 課程有助於自身教學品質之精進	17	44.7%
■ 課程有助於自身教學品質之精進	15	39.4%
■ 長官指派：但非承辦與課程內容相關之業務	3	7.8%
■ 對課程內容有興趣	2	5.2%
■ 其他	1	2.6%
■ 未來可能接觸相關業務	0	0%

完整「其他」資料請至「明細匯出」觀看



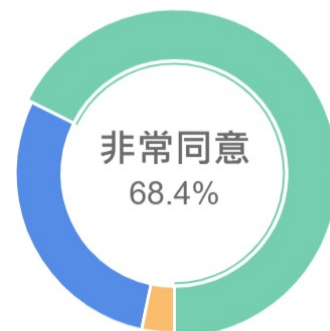
7 反應效果



1. 我很滿意此次上課的主題及內容

答案選項	填答數	百分比
■ 非常同意	26	68.4%
■ 同意	11	28.9%
■ 無意見	1	2.6%
■ 不同意	0	0%
■ 非常不同意	0	0%

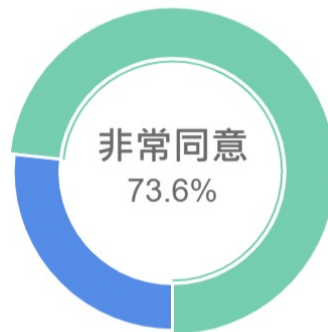
平均數在非常同意~同意之間 1.3



2. 我很滿意此次上課講師的表現—整體而言

答案選項	填答數	百分比
非常同意	28	73.6%
同意	10	26.3%
無意見	0	0%
不同意	0	0%
非常不同意	0	0%

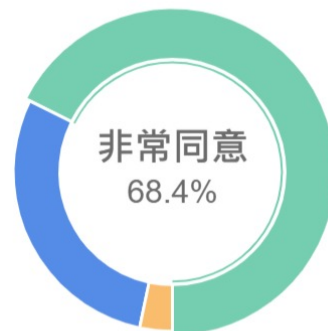
平均數在非常同意~同意之間 1.3



3. 此次課程在時間的安排上很洽當

答案選項	填答數	百分比
非常同意	26	68.4%
同意	11	28.9%
無意見	1	2.6%
不同意	0	0%
非常不同意	0	0%

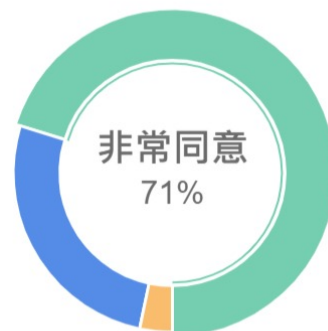
平均數在非常同意~同意之間 1.3



4. 我覺得花時間上這次課程是值得的

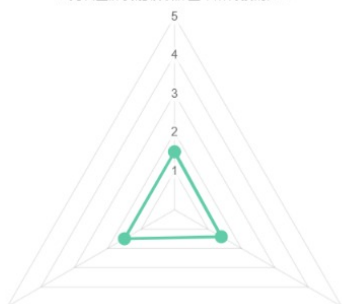
答案選項	填答數	百分比
非常同意	27	71%
同意	10	26.3%
無意見	1	2.6%
不同意	0	0%
非常不同意	0	0%

平均數在非常同意~同意之間 1.3



8 學習效果

1. 此次上課我能吸收課堂中所傳授的知...



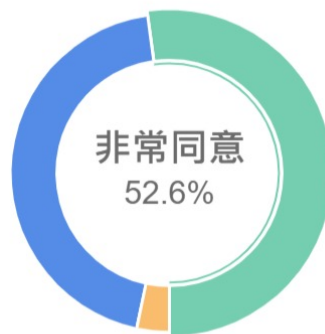
3. 整體而言我覺得此次上課的學習效果...

2. 我覺得此次課程對未來教學或個人成...

1. 此次上課我能吸收課堂中所傳授的知識與技巧

答案選項	填答數	百分比
非常同意	20	52.6%
同意	17	44.7%
無意見	1	2.6%
不同意	0	0%
非常不同意	0	0%

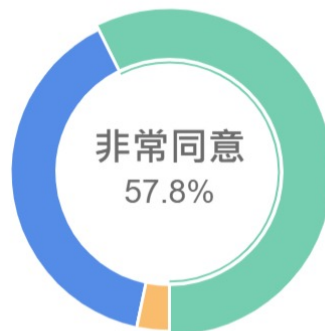
平均數在非常同意 ~ 同意之間 1.5



2. 我覺得此次課程對未來教學或個人成長有所助益

答案選項	填答數	百分比
非常同意	22	57.8%
同意	15	39.4%
無意見	1	2.6%
不同意	0	0%
非常不同意	0	0%

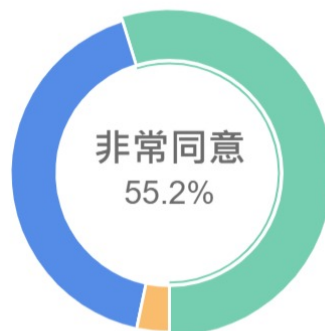
平均數在非常同意 ~ 同意之間 1.4



3. 整體而言我覺得此次上課的學習效果很好

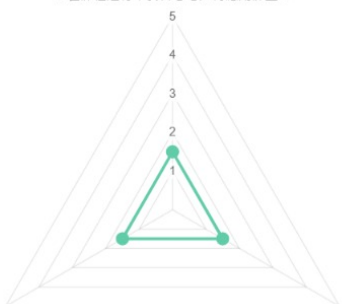
答案選項	填答數	百分比
非常同意	21	55.2%
同意	16	42.1%
無意見	1	2.6%
不同意	0	0%
非常不同意	0	0%

平均數在非常同意 ~ 同意之間 1.5



9 行為效果

1. 在課程進行中我曾思考如何應用課堂...



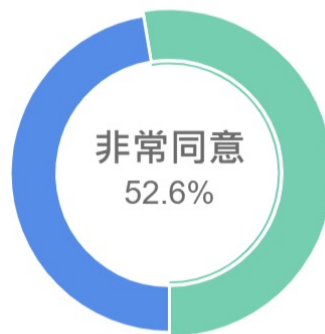
3. 我會利用機會將課程所學或實踐結果...

2. 我會嘗試使用課程所學落實於學校教...

1. 在課程進行中我曾思考如何應用課堂所學於學校教學中

答案選項	填答數	百分比
非常同意	20	52.6%
同意	18	47.3%
無意見	0	0%
不同意	0	0%
非常不同意	0	0%

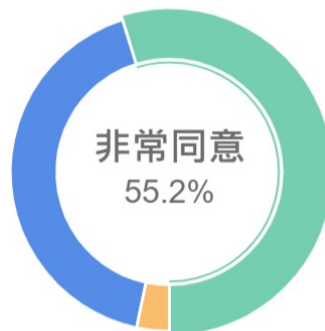
平均數在非常同意 ~ 同意之間 1.5



2. 我會嘗試使用課程所學落實於學校教學中

答案選項	填答數	百分比
非常同意	21	55.2%
同意	16	42.1%
無意見	1	2.6%
不同意	0	0%
非常不同意	0	0%

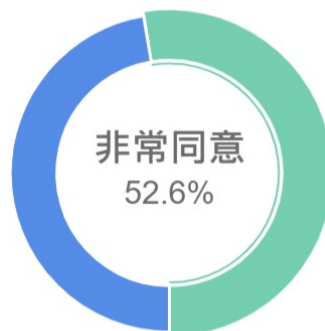
平均數在非常同意 ~ 同意之間 1.5



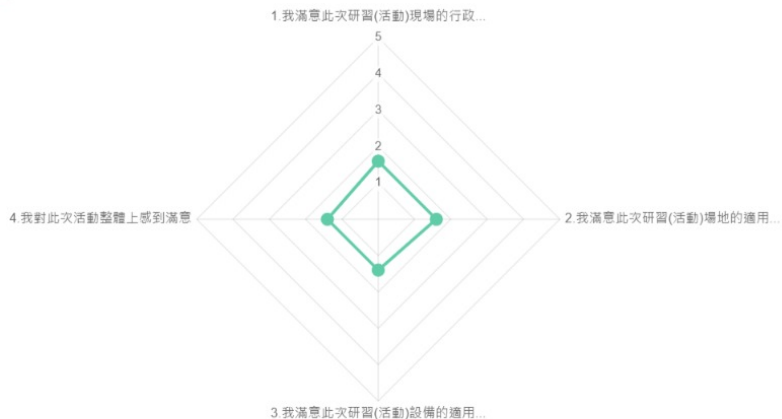
3. 我會利用機會將課程所學或實踐結果與學校同仁分享

答案選項	填答數	百分比
非常同意	20	52.6%
同意	18	47.3%
無意見	0	0%
不同意	0	0%
非常不同意	0	0%

平均數在非常同意 ~ 同意之間 1.5



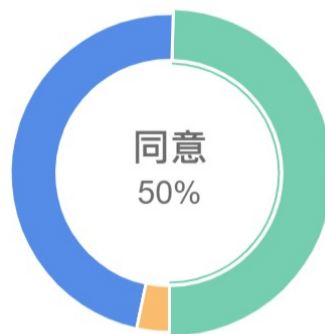
10 行政服務面



1. 我滿意此次研習(活動)現場的行政服務品質

答案選項	填答數	百分比
同意	19	50%
非常同意	18	47.3%
無意見	1	2.6%
不同意	0	0%
非常不同意	0	0%

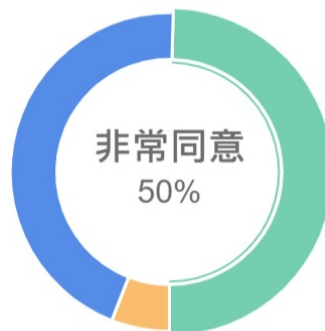
平均數在非常同意~同意之間 1.6



2. 我滿意此次研習(活動)場地的適用與品質

答案選項	填答數	百分比
非常同意	19	50%
同意	17	44.7%
無意見	2	5.2%
不同意	0	0%
非常不同意	0	0%

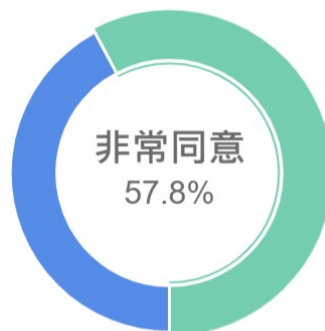
平均數在非常同意~同意之間 1.6



3. 我滿意此次研習(活動)設備的適用與品質

答案選項	填答數	百分比
非常同意	22	57.8%
同意	16	42.1%
無意見	0	0%
不同意	0	0%
非常不同意	0	0%

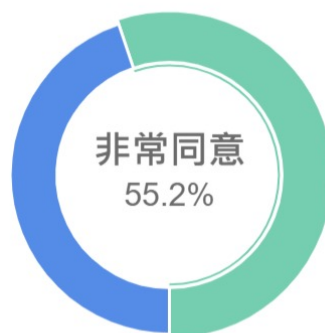
平均數在非常同意~同意之間 1.4



4. 我對此次活動整體上感到滿意

答案選項	填答數	百分比
非常同意	21	55.2%
同意	17	44.7%
無意見	0	0%
不同意	0	0%
非常不同意	0	0%

平均數在非常同意~同意之間 1.4



11 未來是否願意繼續參加相關課程?

答案選項	填答數	百分比
■ 願意	38	100%
■ 不願意	0	0%



12 在我的工作領域中，目前亟需增能的課程為：

行政工作主題、課程教學領導主題、教學專業.....

開放性填答，為節約印料與考量您的荷包，請使用匯出功能。SurveyCake Team與您一起愛護地球。

議題融入 (1) 試題分析、出題、學生迷思 (1) 素養 (1) 無 (1) 新課綱相關議題 (1) 教學精進 (1) 教學主題如何配合新課綱呈現 (1) 教學主題及內容如何配合新課綱呈現 (1)
 如何讓學生主動學習，學生缺乏意願讀書，就算用心出題目，也不會有太大成效。(1) 了解目前的教學方向 不同的教學模式 (1)

多行文字題僅顯示至多 100組 資料統計，完整資料請至“明細匯出”觀看。

13 我認為參加此次研習最大的收穫？

開放性填答，為節約印料與考量您的荷包，請使用匯出功能。SurveyCake Team與您一起愛護地球。

題目類型的判別，助於出題 (1) 試題分析 (1) 無 (1) 更能具體分析會考的出題方式 (1) 更瞭解會考試題的內涵 (1) 更加了解會考題型與出題原則 (1) 對題目分析更理解了，感謝 (1)
 對試題的分析更有概念 (1) 了解能力指標 (1) 了解會考題的命題趨勢，並檢視和調整教學方法 (1) 了解會考出題趨勢 (1)

多行文字題僅顯示至多 100組 資料統計，完整資料請至“明細匯出”觀看。

14 建議事項(請具體陳述，俾利改善)

開放性填答，為節約印料與考量您的荷包，請使用匯出功能。SurveyCake Team與您一起愛護地球。

無 (5) 輔導團辛苦了。(1) 謝謝輔導團的老師們。(1)
 研習地點請考慮停車的方便性，最好能開放校園停車 (1) 研習地點可否選擇能校內停車的地方 (1)
 沒有停車位，是否可以選一個可以提供停車位的學校研習 (1) 可考慮停車方便性,開放校園停車 (1)

文字題僅顯示至多 100組 資料統計，完整資料請至“明細匯出”觀看。

沒有停車位，是否可以選一個可以提供停車位的學校研習
 研習地點請考慮停車的方便性，最好能開放校園停車
 謝謝輔導團的老師們。
 可考慮停車方便性,開放校園停車無
 輔導團辛苦了。
 研習地點可否選擇能校內停車的地方